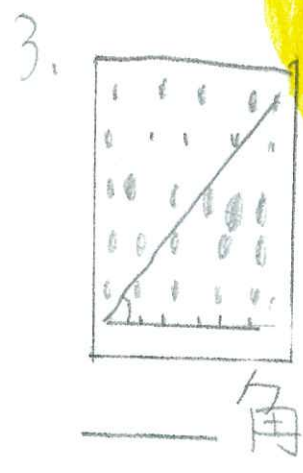
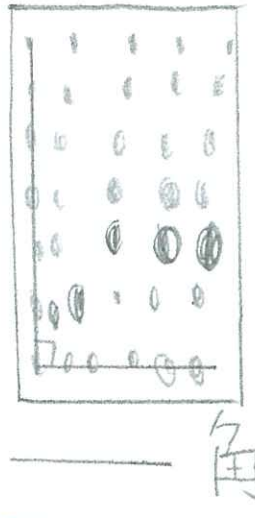
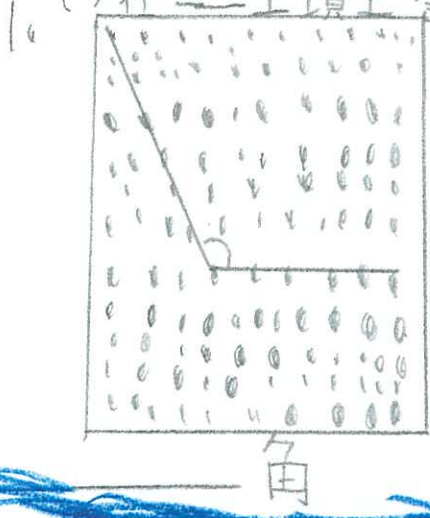


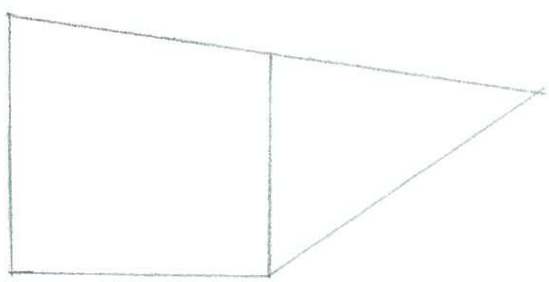
(一) 在 \_\_\_\_\_ 上填上答案



(二) 畫垂直線。



(三) 填一填。



上圖有直角 \_\_\_\_\_ 個，有銳角 \_\_\_\_\_ 個，  
有鈍角 \_\_\_\_\_ 個。

